



***Chào mừng các em  
đến với tiết Toán***




# Trò Chơi Kéo Co



# Cách chơi

- Các em học sinh sẽ trả lời câu hỏi để giúp đội mình kéo thắng đội bạn. Mỗi câu trả lời đúng trong thời gian quy định sẽ giúp đội mình thắng 1 hiệp.
- Trường hợp cả hai đội không trả lời đúng sẽ coi như hòa. Hiệp đó không tính vào số hiệp thắng.
- Kết thúc trò chơi đội nào có số hiệp thắng nhiều hơn (tương đương với trả lời đúng nhiều câu hỏi hơn) sẽ là đội chiến thắng.



# Câu Hỏi

$$63 - 9 = ?$$




A.54

C.54

B.64

D.63



# Câu Hỏi




A.32

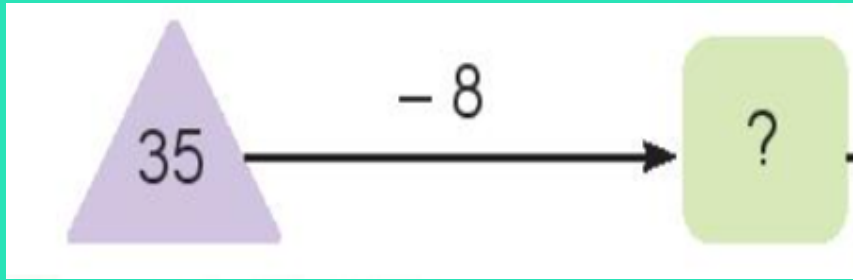
C.34

B. 33

D.35



# Câu Hỏi




A.26

C.27

B.25

D.24





**Bài 23: Phép trừ (có nhớ)  
số có 2 chữ số cho số có 2  
chữ số**

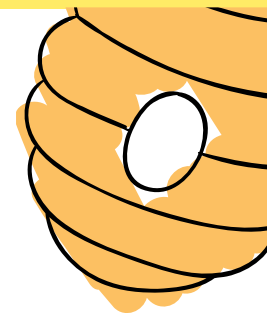


# Tiết 1

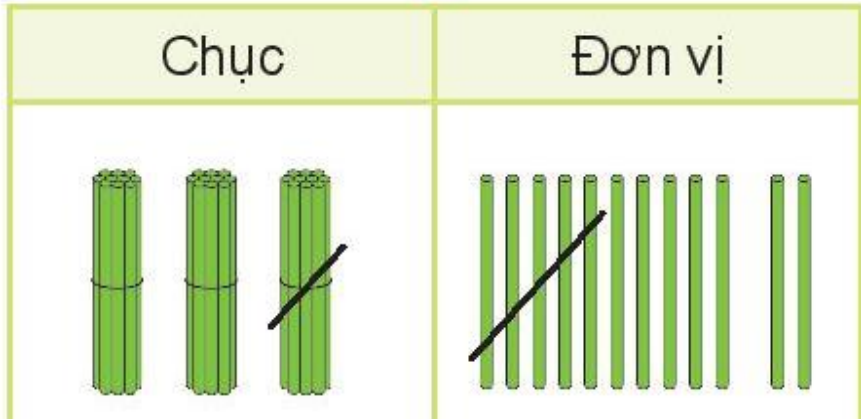
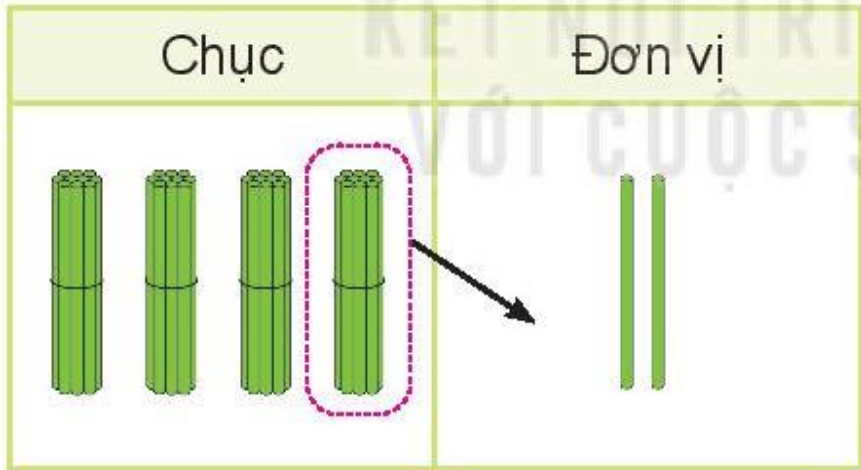




# Khám phá



$$42 - 15 = ?$$



$$\begin{array}{r} 42 \\ - 15 \\ \hline 27 \end{array}$$

- 2 không trừ được 5, lấy 12 trừ 5 bằng 7, viết 7, nhớ 1.
- 4 trừ 1 bằng 3, 3 trừ 1 bằng 2, viết 2.

$$42 - 15 = 27$$

**1** Tính.

$$\begin{array}{r} 72 \\ - 19 \\ \hline 53 \end{array}$$

$$\begin{array}{r} 60 \\ - 28 \\ \hline 32 \end{array}$$

$$\begin{array}{r} 93 \\ - 46 \\ \hline 47 \end{array}$$

$$\begin{array}{r} 41 \\ - 32 \\ \hline 9 \end{array}$$

**2** Đặt tính rồi tính.

$63 - 36$

$72 - 27$

$54 - 16$

$80 - 43$

$$\begin{array}{r} 63 \\ - 36 \\ \hline 27 \end{array}$$

$$\begin{array}{r} 72 \\ - 27 \\ \hline 45 \end{array}$$

$$\begin{array}{r} 54 \\ - 16 \\ \hline 38 \end{array}$$

$$\begin{array}{r} 80 \\ - 43 \\ \hline 37 \end{array}$$

## Vận dụng:

- 3 Trên cây khế có 90 quả. Chim thần đã ăn mất 24 quả. Hỏi trên cây còn lại bao nhiêu quả khế?



### Bài giải:

Số quả khế còn lại trên cây là:

$$90 - 24 = 66 \text{ (quả)}$$

Đáp số: 66 quả

# ***Tiết 2***





1 Đặt tính rồi tính.

$35 - 28$

$53 - 34$

$80 - 27$

$90 - 52$

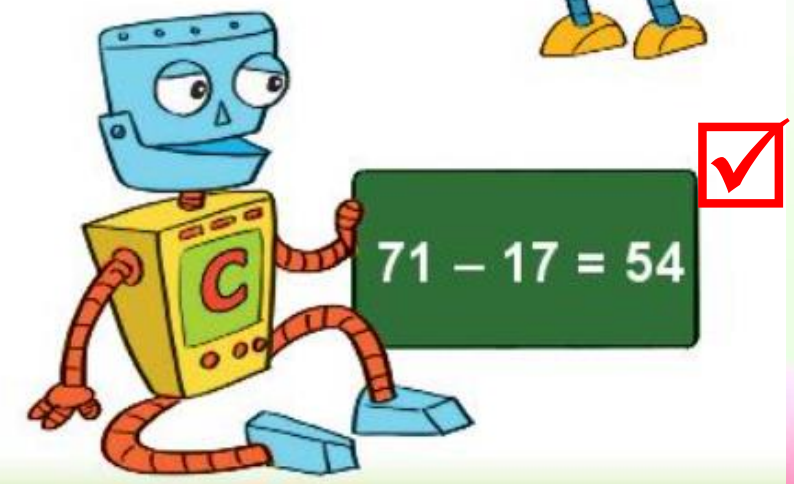


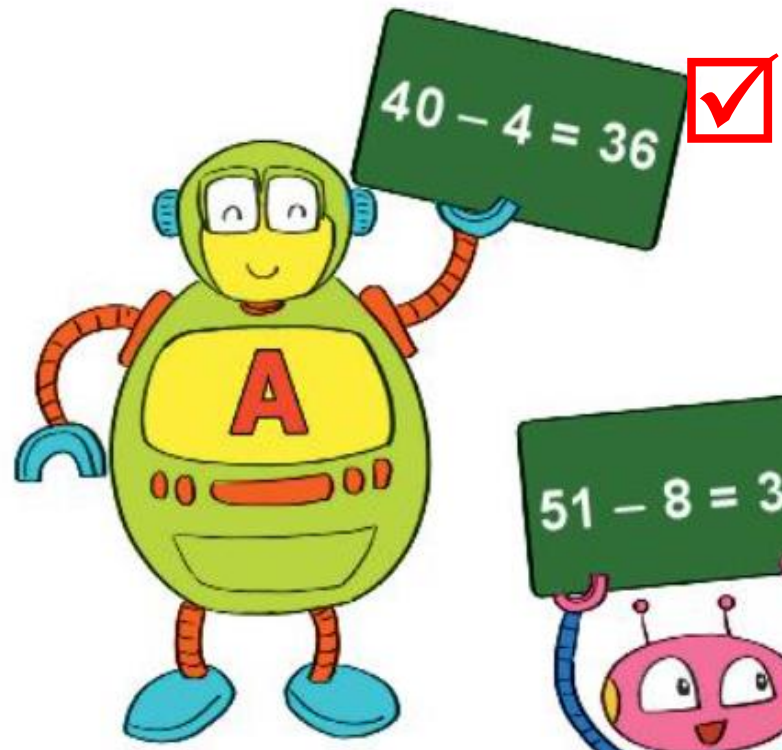
$$\begin{array}{r} 35 \\ - 28 \\ \hline 7 \end{array}$$

$$\begin{array}{r} 53 \\ - 34 \\ \hline 19 \end{array}$$


$$\begin{array}{r} 80 \\ - 27 \\ \hline 53 \end{array}$$

$$\begin{array}{r} 90 \\ - 52 \\ \hline 38 \end{array}$$

2 Bạn rô-bốt nào cầm bảng ghi phép tính đúng?



- 3 Rô-bốt A cân nặng 33 kg.  
Rô-bốt D nhẹ hơn rô-bốt A  
16 kg. Hỏi rô-bốt D cân nặng  
bao nhiêu ki-lô-gam?



Rô-bốt D nặng số ki-lô-gam là:  
 $33 - 16 = 17$  (kg)  
Đáp số: 17 kg

4 > ; < ; = ?

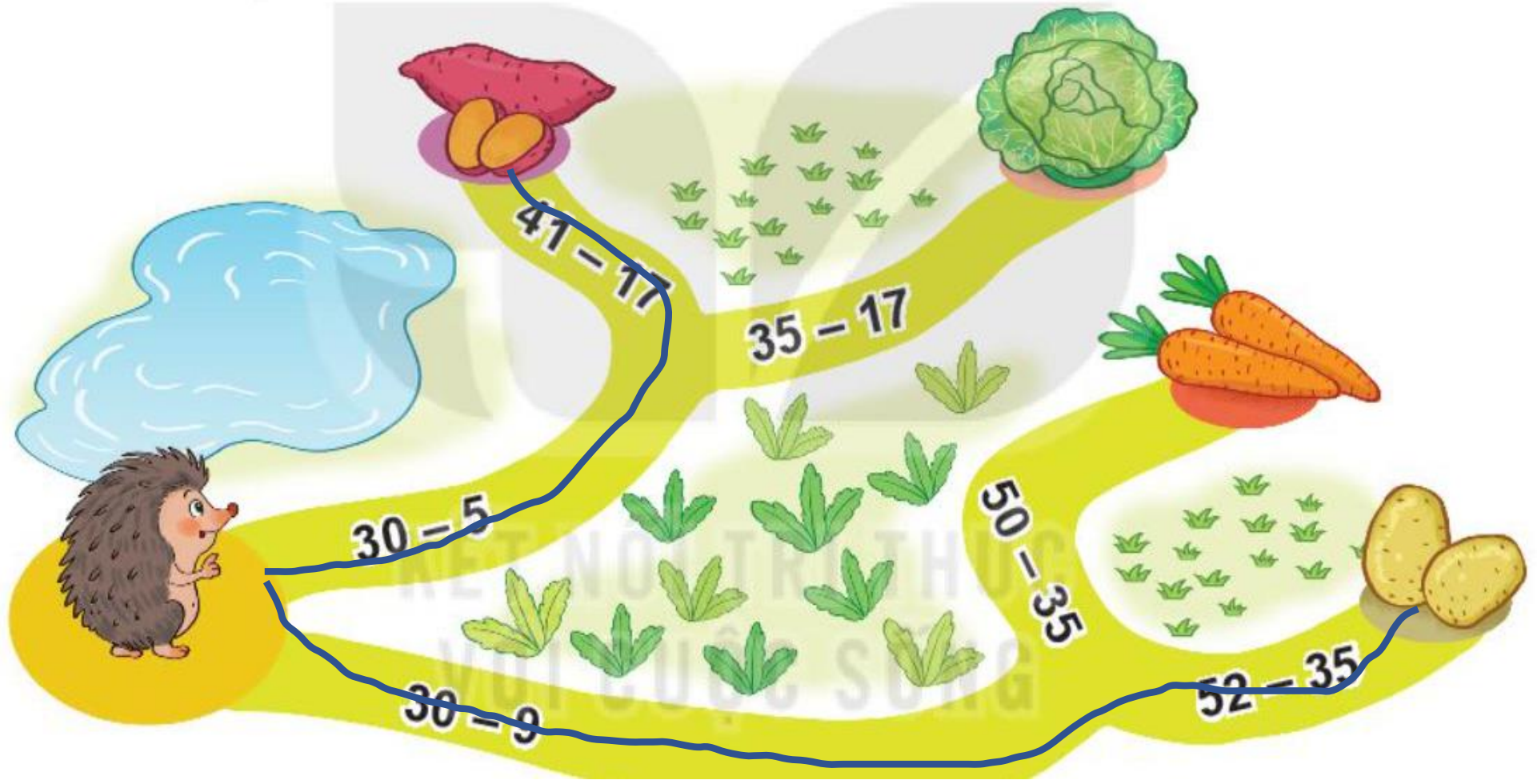
a)  $42 - 13$    $<$   $30$

$70 - 25$    $=$   $45$

b)  $52 - 15$    $<$   $60 - 15$

$54 - 17$    $>$   $45 - 17$

**5** Tại mỗi ngã rẽ, bạn nhím sẽ đi theo con đường ghi phép tính có kết quả lớn hơn. Bạn nhím sẽ đến chỗ món ăn nào?



# ***Tiết 3***





**1** Tính nhẩm.

$$100 - 40 = 60$$

$$100 - 70 = 30$$

$$100 - 90 = 10$$

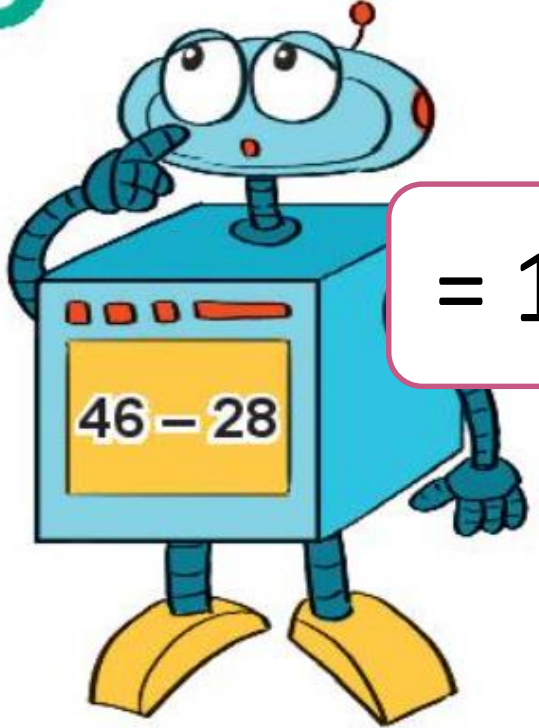
**2** Bình xăng của một ô tô có 42 l xăng. Ô tô đã đi một quãng đường hết 15 l xăng. Hỏi bình xăng của ô tô còn lại bao nhiêu lít xăng?

Bình xăng của ô tô còn lại số lít xăng là:

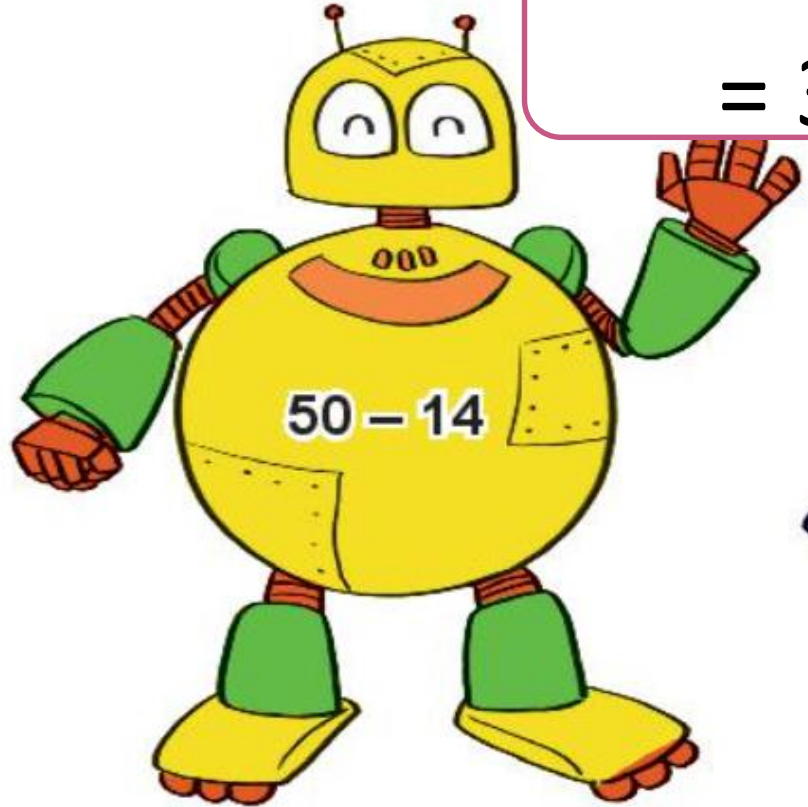
$$42 - 15 = 27 \text{ (l)}$$

Đáp số: 27 l


3



= 18



lớn nhất  
= 36



- a) Rô-bốt có thân dạng khối lập phương ghi phép tính có kết quả bằng bao nhiêu?
- b) Rô-bốt nào ghi phép tính có kết quả lớn nhất?



4 Tìm quần phù hợp với áo.



A decorative border featuring yellow sunflowers with brown centers and green leaves, connected by green, swirling vines. The border is positioned around the central text.

# ***Tiết 4***



1 Đặt tính rồi tính.

$54 - 27$

$72 - 36$

$50 - 25$

$95 - 48$

$$\begin{array}{r} 54 \\ - 27 \\ \hline 27 \end{array}$$

$$\begin{array}{r} 72 \\ - 36 \\ \hline 36 \end{array}$$

$$\begin{array}{r} 50 \\ - 25 \\ \hline 25 \end{array}$$

$$\begin{array}{r} 95 \\ - 48 \\ \hline 47 \end{array}$$



**2** Tìm chữ số thích hợp.

$$\begin{array}{r} 4 \boxed{1} \\ - 17 \\ \hline 24 \end{array}$$

$$\begin{array}{r} 83 \\ - \boxed{5}9 \\ \hline 2 \boxed{4} \end{array}$$

$$\begin{array}{r} \boxed{7}1 \\ - 25 \\ \hline 4 \boxed{6} \end{array}$$

**3** Toà nhà có 60 căn phòng. Có 35 căn phòng đã bật đèn. Hỏi còn bao nhiêu căn phòng chưa bật đèn?

Còn số căn phòng chưa bật đèn là:

$$60 - 35 = 25 \text{ (căn)}$$

Đáp số: 25 căn

**4** Chọn kết quả đúng.

a)  $32 + 48 - 16 = ?$

A. 54

**B. 64**

C. 74

b)  $33 - 16 + 53 = ?$

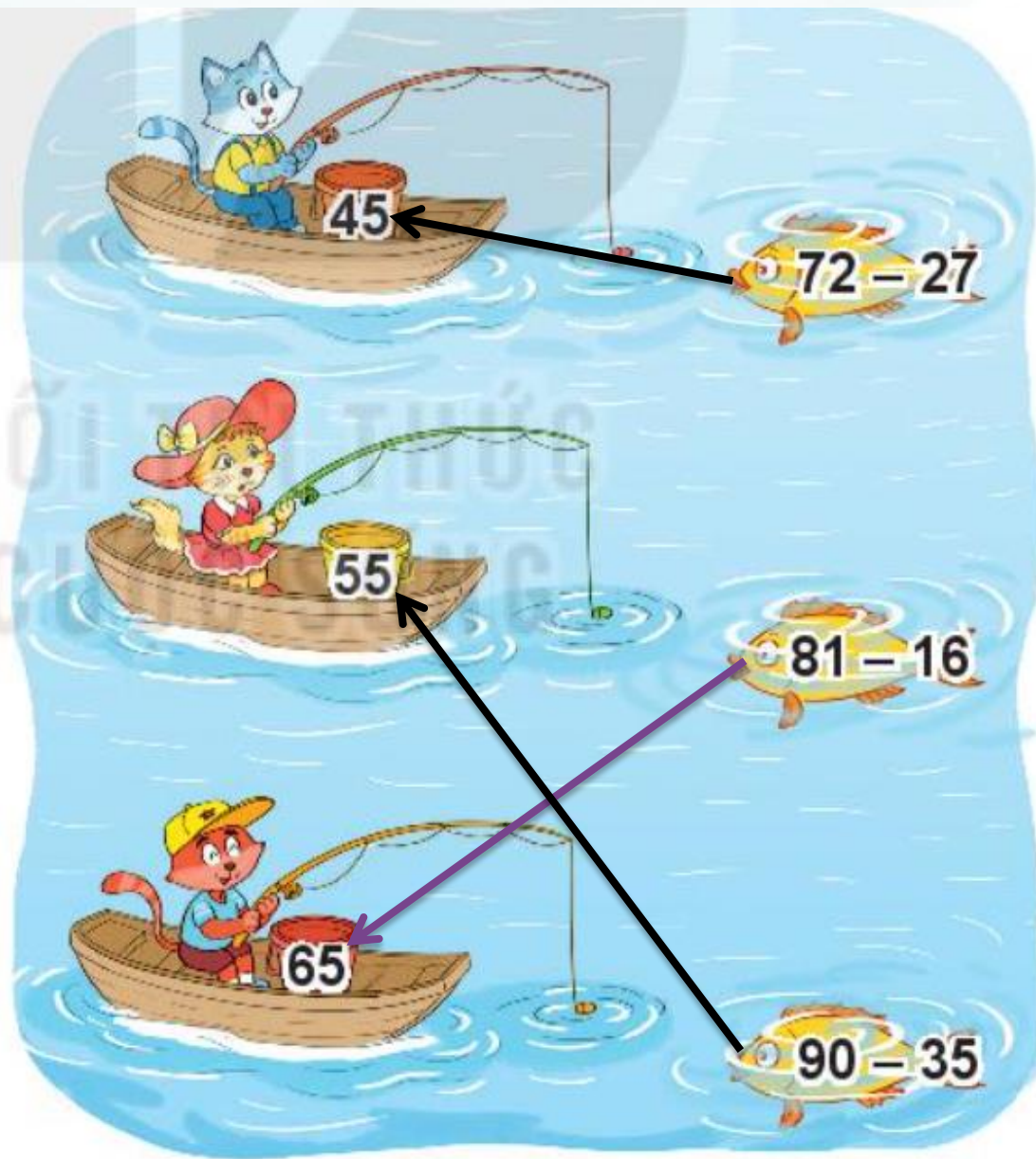
**A. 70**

B. 60

C. 50

**5** Mỗi con mèo sẽ câu con cá ghi phép tính có kết quả là số ghi trên xô.

Tìm cá cho mỗi con mèo.



**luyện tập**

# ***Tiết 5***

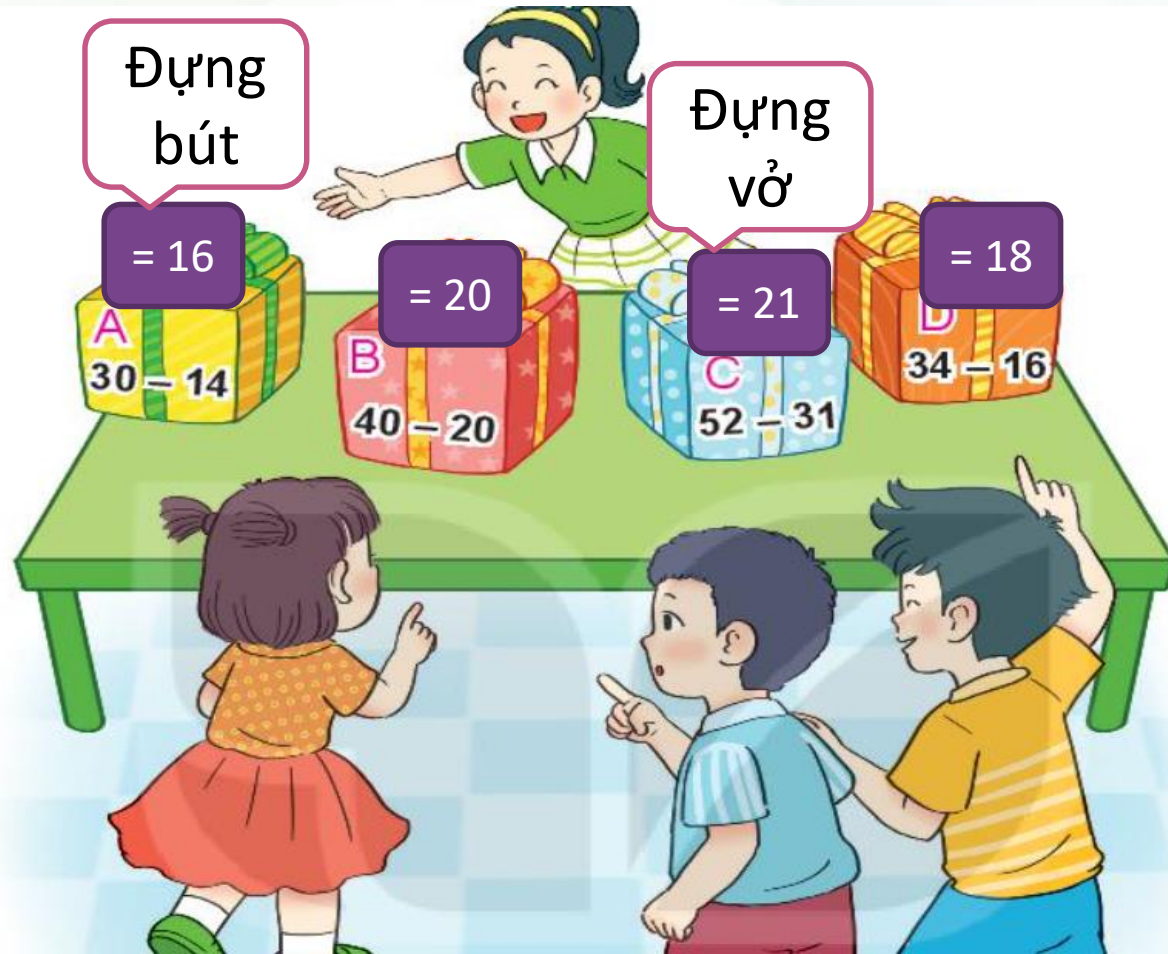


1 Số ?


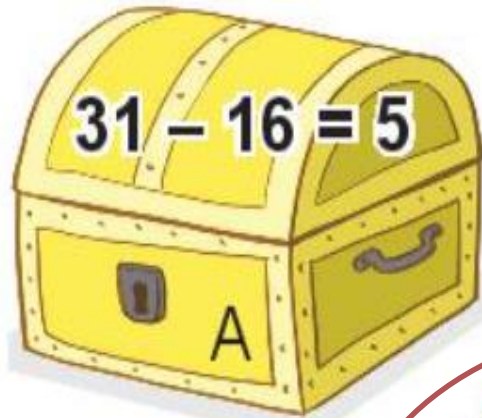
Số bị trừ	83	70	47	80	50
Số trừ	38	25	28	52	30
Hiệu	45	45	19	28	20

## 2 Biết:

- Hộp quà đựng vở là hộp quà ghi phép tính có kết quả lớn nhất.
  - Hộp quà đựng bút là hộp quà ghi phép tính có kết quả bé nhất.
- Hỏi hộp quà nào đựng vở, hộp quà nào đựng bút?



- 3** Chìa khoá mở được chiếc hòm ghi phép tính đúng nhưng không mở được chiếc hòm màu xanh. Chìa khoá mở được chiếc hòm nào?



- 4** Một đàn gà có 32 con gồm gà trống và gà mái, trong đó có 26 con gà mái.  
Hỏi đàn gà có bao nhiêu con gà trống?

Đàn gà có số con gà trống là:

$$32 - 26 = 6 \text{ (con)}$$

Đáp số: 6 con



Chúc các thầy cô mạnh khỏe

Chúc các con chăm ngoan



Liên hệ giáo án:

FB: Hương Thảo

Gmail: tranthao121006@gmail.com